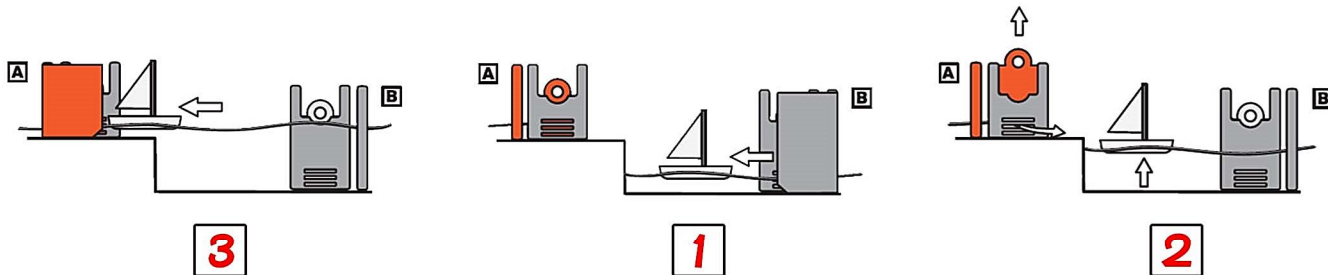





GO4 兒童科學廳

初小


1. 請為以下圖片加上序號(1至3)，使小船能夠從低水域駛入高水域。




2. 「水飛躍」展品中，當水從噴咀噴出來後，它在空氣中的軌跡會呈現甚麼形狀？



拋物線形



直線形



曲線形

3. 展品「能量貯存」是以甚麼作為能量來源，轉動「匙渦輪」令圓球爬梯？



水



電



風

4. 在日常生活中，我們看到「噴水引擎」的應用有以下哪一個？



淋浴花灑



噴水壺



草地噴灑器