



G09 物理力學廳

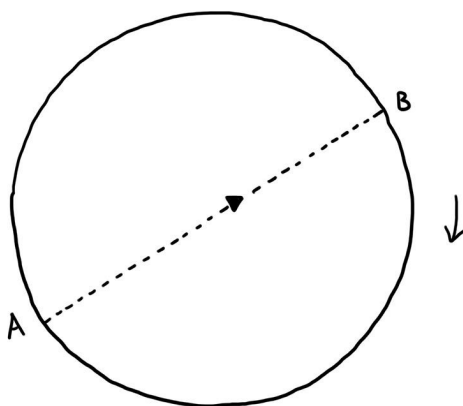
高小

1. 同樣的速度，同樣的距離，哪一輛腳踏車會較快到位置B？



2. 假設你在一個大型轉盤上騎腳踏車，轉盤往順時針方向轉動，你的腳踏車方向盤要往哪一個方向，才可保持直線由A到達B？

- 左
- 右



3. 滑輪在日常生活中是常用的工具，懂得使用滑輪，可達致事半功倍的效果。請舉例三個在日常生活中滑輪應用的例子。
