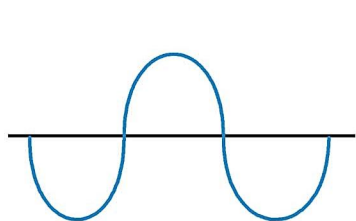


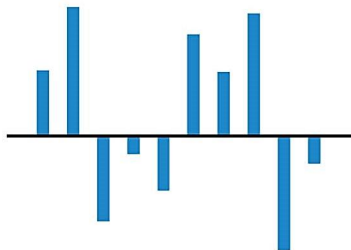
## G08 聲學廳

高小

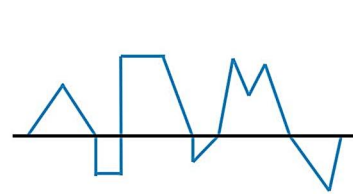
1. 聲音是以甚麼形狀的聲波傳播？



波浪形的聲波



柱形的聲波

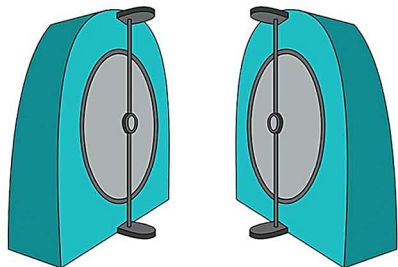


不規則形狀的聲波


2. 聲音可透過以下哪一種介質傳播？

- 水
- 空氣
- 木頭
- 以上皆是

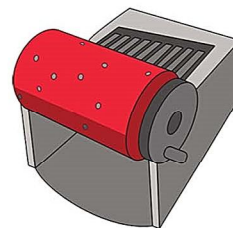
3. 哪一件展品是以反射來傳播聲音的？



聲音反射



電子鼓



音樂盒

4. 在共弦與駐波中，在哪個範圍值內能清晰見到駐波產生？

- 0-25Hz
- 26-50Hz
- 51-75 Hz
- 76-100 Hz